

# ЗНО-2021

## Географія

### КОМПЛЕКСНА ПІДГОТОВКА

- ◆ Теоретичний матеріал, словник термінів і понять
- ◆ Тести та географічні задачі за темами програми ЗНО
- ◆ Відповіді до тестів
- ◆ Практичні завдання
- ◆ Інтерактивні тренувальні тести: легко, швидко, якісно



**ЗНО**  
НА 200 БАЛІВ

Завантажуй  
інтерактивні  
тренувальні тести  
[www.geneza.ua](http://www.geneza.ua)

# ІНСТРУКЦІЯ

Шановний користувачу!

Для роботи з додатком ви **маєте** зберегти цей PDF-файл на своєму пристрої (комп'ютері) та відкривати його за допомогою програми **Adobe® Acrobat® Reader** версії 7.0 або вищої.

## **Як працювати з тестовими завданнями.**

У завданнях із вибором однієї правильної відповіді оберіть «кліком» клітинку під буквою, якою позначено правильну, на вашу думку, відповідь.

У завданнях на встановлення відповідності поданого переліку фактів, термінів чи понять заповніть таблицю, обираючи «кліком» клітинку на перетині номера завдання та букви, якою позначено правильний, на вашу думку, варіант відповіді до цього завдання.

У завданнях відкритої форми з короткою відповіддю введіть із клавіатури число або текст у відведене для цього поле жовтого кольору та виберіть значення із випадаючого списку (де це необхідно).

У завданнях із вибором трьох правильних відповідей із семи запропонованих варіантів у комірці введіть із клавіатури номери правильних, на вашу думку, відповідей.

Усі комірки, які ви обираєте, виконуючи тестові завдання, стають жовтими.

Щоб отримати результат тестування, оберіть функцію «*Завершити*». Це дасть змогу не лише дізнатися, чи правильно ви розв'язали кожне із завдань тесту, а й побачити правильні відповіді до них. Ваші правильні відповіді буде позначено зеленим кольором, а неправильні – червоним. Для отримання результатів **не обов'язково** виконувати усі завдання тесту – ви можете виконати одне або декілька завдань та скористатися функцією «*Завершити*». Пам'ятайте, що поки не скористалися функцією завершення тестування, ви можете вільно змінювати відповіді, які обрали або ввели. Після завершення тестування це буде неможливо.

Якщо ви наведете курсор «миші» на кружечок із номером завдання, то у вікні, що спливе, побачите номери сторінок або тем посібника «*Географія. Комплексна підготовка до зовнішнього незалежного оцінювання*» авторів В. В. Безуглого та І. І. Костащука, видавництво «Гене́за», 2020. Вказані сторінки містять теоретичний матеріал, який допоможе вам пригадати, повторити та поглибити знання з теми, яка відповідає змісту завдання.

Ілюстрації, що мають світло-зелену рамку, можуть бути збільшені. Для цього треба на них натиснути. Щоб прибрати збільшення, натисніть ще раз.

Про виявлені помилки повідомляйте на електронну адресу [genezaep@gmail.com](mailto:genezaep@gmail.com).

# РОЗДІЛ 1. ЗАГАЛЬНА ГЕОГРАФІЯ

## I. Завдання 1–36 з вибором однієї правильної відповіді

1. Назвіть мандрівника, який відкрив морський шлях до Індії.

- A Джеймс Кук
- Б Васко да Гама

- В Фернан Магеллан
- Г Христофор Колумб

A Б В Г

--	--	--	--

2. Зазначте ім'я мореплавця, який відкрив мис Доброї Надії.

- A Фернан Магеллан
- Б Христофор Колумб

- В Васко да Гама
- Г Бартоломео Діаш

A Б В Г

--	--	--	--

3. Укажіть, наслідком чого є зміна висоти Сонця над горизонтом.

- A осьового руху Землі
- Б орбітального руху Землі

- В нерівномірного руху Землі по орбіті
- Г впливу сили Коріоліса

A Б В Г

--	--	--	--

4. Зазначте, скільки годинних поясів є на Землі.

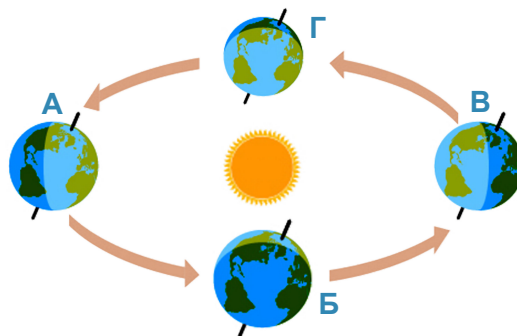
- A 12
- Б 15

- В 24
- Г 23

A Б В Г

--	--	--	--

5. Укажіть, у якому положенні відносно Сонця перебуває Земля, коли в Північній півкулі буде найдовший у році світловий день.



A Б В Г

--	--	--	--

6. Зазначте, який меридіан називають лінією зміни дат.

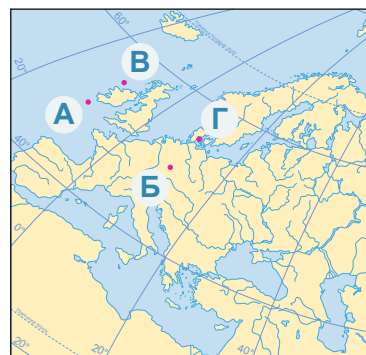
- A нульовий
- Б Гринвіцький

- В 180-й
- Г 90-й

A Б В Г

--	--	--	--

7. Укажіть, якою літерою на карті Європи позначено пункт із координатами 55° пн. ш. і 10° зх. д.



A Б В Г

--	--	--	--

8. Укажіть назву проєкції, у якій спотворено кути і площі.

A конічна

Б циліндрична

В рівнокутна

Г рівнопроміжна

A Б В Г

--	--	--	--


9. Допоможіть туристові, який перебуває в Північній півкулі, опівдні визначити сторону горизонту ліворуч від себе.

A північ

Б схід

В захід

Г південь



A Б В Г

--	--	--	--

10. Укажіть, скільки градусів становить азимут північно-східної сторони горизонту.

A 90°

Б 45°

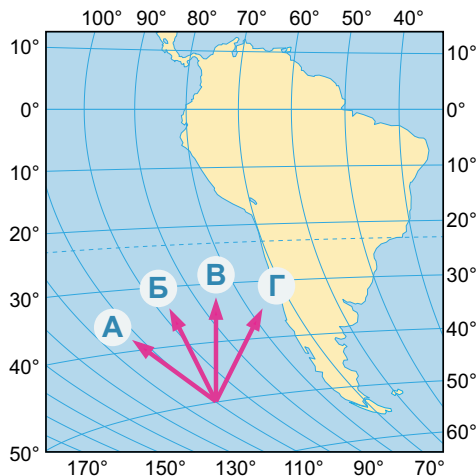
В 180°

Г 215°

A Б В Г

--	--	--	--

11. Визначте, яка стрілка на фрагменті карти відповідає напрямку на північ.



A Б В Г

--	--	--	--

12. Назвіть чинник, від якого залежить дальність видимості горизонту.

A гострота зору спостерігача

Б висота спостереження

В наявність хмар на небосхилі

Г наявність бінокля

A Б В Г

--	--	--	--

13. Холодні течії сприяють утворенню...

A пустель та напівпустель

Б циклонічної діяльності

В снігового та льодового покриву

Г хвойних лісів

A Б В Г

--	--	--	--

14. Укажіть назву затопленої частини материка завглибшки 200 м.

A материковий схил

Б материкова мілина

В шельф


Г материкове підніжжя

A Б В Г

--	--	--	--

15. Визначте, як називається прилад, зображений на малюнку.

- А барометр
- Б психрометр
- В гігрометр
- Г сейсмограф



А Б В Г

--	--	--	--

16. Укажіть назву нижнього шару атмосфери.

- А тропосфера
- Б іоносфера
- В стратосфера
- Г криосфера

А Б В Г

--	--	--	--

17. Зазначте, чому дорівнює термічний ступінь.

- А через 6 км на 10 °С
- Б через 1 км на 10 °С
- В через 1 км на 6 °С
- Г через 6 км на 6 °С

А Б В Г

--	--	--	--

18. Знайдіть помилкове твердження щодо використання метеорологічного приладу.

- А термометром вимірюють температуру повітря
- Б барометром вимірюють випаровуваність
- В флюгером визначають напрямок і силу вітру
- Г гігрометром вимірюють вологість повітря

А Б В Г

--	--	--	--

19. Дайте визначення поняття «максимальний вміст водяної пари, що може утримуватися в 1 м<sup>3</sup> атмосферного повітря за певної температури, – це...».

- А гігроскопічна вологість
- Б відносна вологість
- В абсолютна вологість
- Г вологовміст повітря

А Б В Г

--	--	--	--

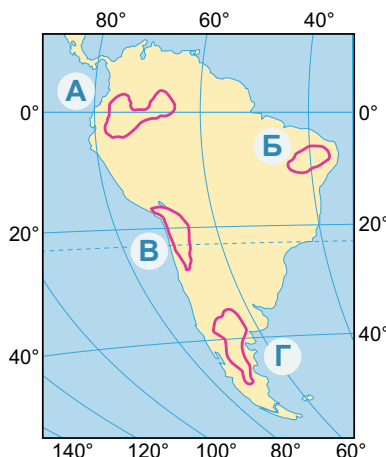
20. Укажіть, що не належить до такого кліматотвірного чинника, як характер підстильної поверхні.

- А рілля
- Б рослинний покрив
- В прозорість атмосфери
- Г рельєф

А Б В Г

--	--	--	--

21. З'ясуйте, на якій з територій, позначених літерами на карті Південної Америки, середньорічна кількість атмосферних опадів є найбільшою.



А Б В Г

--	--	--	--

22. Зазначте, до якого кліматичного поясу належить мусонна кліматична область.

- A помірною
- Б антарктичного

- В тропічного
- Г субекваторіального

A B B Г

--	--	--	--

23. Укажіть, скільки становлять запаси водних ресурсів на Землі.

- A 1,5 млрд км<sup>3</sup>
- Б 2,6 млрд км<sup>3</sup>

- В 1,6 млрд км<sup>3</sup>
- Г 1,9 млрд км<sup>3</sup>

A B B Г

--	--	--	--

24. Зазначте середню солоність води у Світовому океані.

- A 42 ‰
- Б 35 ‰

- В 39 ‰
- Г 33 ‰

A B B Г

--	--	--	--

25. Укажіть назву невеликої затоки, що чітко відділена мисами й островами від океану або моря, добре захищена від вітрів.

- A бухта
- Б протока

- В фіорд
- Г затока

A B B Г

--	--	--	--

26. Назвіть столицю країни, в околицях якої люди навіть улітку можуть використовувати природні «холодильники».

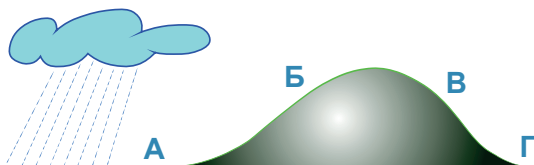
- A Київ
- Б Осло

- В Улан-Батор
- Г Париж

A B B Г

--	--	--	--

27. Визначте точку, у якій опадів випадатиме більше.



A B B Г

--	--	--	--

28. Назвіть термін, що характеризує найнижчий рівень води в річці.

- A паводок
- Б межень

- В повінь
- Г водозбір

A B B Г

--	--	--	--

29. Зазначте, що використовують для відведення зайвої кількості води із сільськогосподарських угідь.

- A енергетичні канали
- Б водопровідні канали

- В дренажні канали
- Г іригаційні канали.

A B B Г

--	--	--	--

30. Укажіть, де розташований нівальний пояс.

А нижче рівня підземних вод

Б вище купчастих хмар

В на висоті, де закінчується вода в атмосфері

Г вище снігової лінії

А Б В Г

--	--	--	--

31. Назвіть річку, басейн якої зображено на малюнку.

А Дніпро

Б Амазонка

В Конго

Г Міссісіпі



А Б В Г

--	--	--	--

32. Зазначте, на якій висоті проходить верхня межа біосфери.

А 15–20 км

Б 20–25 км

В 35–40 км

Г 10–12 км

А Б В Г

--	--	--	--

33. Оберіть серед зазначених типів ґрунту зональний.

А болотний

Б червонозем

В солонцюватий

Г лучний

А Б В Г

--	--	--	--

34. Зазначте, як називають процес видування ґрунтів вітром.

А висушування

Б деградація

В дефляція

Г водна ерозія

А Б В Г

--	--	--	--

35. Укажіть, у якому лісі росте шоколадне дерево.

А екваторіальному

Б широколистяному

В тропічному

Г хвойному

А Б В Г

--	--	--	--

36. Ковила, типчак, різнотрав'я – це представники...

А сіль

Б степів

В напівпустель

Г гілєй

А Б В Г

--	--	--	--

## II. Завдання 37–42 на визначення відповідності

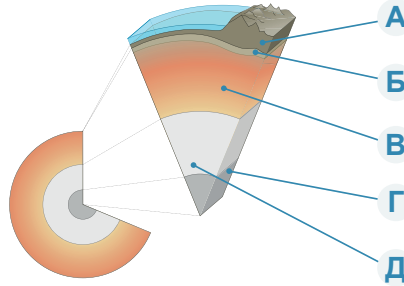
37. Установіть відповідність між числовим та іменованим масштабом.

- |                 |                           |
|-----------------|---------------------------|
| 1 1:10 000      | <b>А</b> в 1 см – 2500 км |
| 2 1:25 000      | <b>Б</b> в 1 см – 250 м   |
| 3 1:250 000     | <b>В</b> в 1 см – 2,5 км  |
| 4 1:250 000 000 | <b>Г</b> в 1 см – 100 км  |
|                 | <b>Д</b> в 1 см – 100 м   |

	А	Б	В	Г	Д
1					
2					
3					
4					

38. Визначте відповідність між елементами внутрішньої будови Землі, показаними на малюнку, та їхніми назвами.

- земна кора
- зовнішнє ядро
- внутрішнє ядро
- астеносфера



	А	Б	В	Г	Д
1					
2					
3					
4					

39. Укажіть відповідність між океанічними течіями та їхньою характеристикою.

- |             |  |
|-------------|--|
| 1 Мусонна   | <b>А</b> тепла течія, що приносить тепло Японії        |
| 2 Гвіанська | <b>Б</b> протікає вздовж північного берега Пд. Америки |
| 3 Куросіо   | <b>В</b> омиває Скандинавський півострів               |
| 4 Норвезька | <b>Г</b> приносить опади до південних схилів Гімалаїв  |
|             | <b>Д</b> холодна течія в Північно-Льодовитому океані   |

	А	Б	В	Г	Д
1					
2					
3					
4					

40. Укажіть відповідність між рослинами та регіонами їхнього поширення.

- |                |   |
|----------------|---|
| 1 саксаул      | <b>А</b> високогір'я Українських Карпат |
| 2 евкаліпт     | <b>Б</b> Австралія                      |
| 3 яловець      | <b>В</b> пустелі Євразії                |
| 4 полярний мак | <b>Г</b> болота Амазонії                |
|                | <b>Д</b> тундра                         |

	А	Б	В	Г	Д
1					
2					
3					
4					

41. Установіть відповідність між країною та її годинним поясом.

- |                     |                    |
|---------------------|--------------------|
| 1 Україна           | <b>А</b> нульовий  |
| 2 Італія            | <b>Б</b> перший    |
| 3 Португалія        | <b>В</b> другий    |
| 4 Саудівська Аравія | <b>Г</b> третій    |
|                     | <b>Д</b> четвертий |

	А	Б	В	Г	Д
1					
2					
3					
4					

42. Визначте відповідність між середньорічною температурою повітря та типами клімату, для яких вона характерна.

- |          |                         |
|----------|-------------------------|
| 1 +24 °С | <b>А</b> екваторіальний |
| 2 -42 °С | <b>Б</b> тропічний      |
| 3 +16 °С | <b>В</b> помірний       |
| 4 -8 °С  | <b>Г</b> арктичний      |
|          | <b>Д</b> антарктичний   |

	А	Б	В	Г	Д
1					
2					
3					
4					



### III. Завдання 43–50 відкритої форми з короткою відповіддю

43. Обчисліть площу озера на карті масштабу 1:20 000, якщо на місцевості вона становить 20 га.

Відповідь:  $CM^2$

44. Обчисліть витрати води в річці, якщо її пересічна ширина становить 20 м, глибина – 5 м, а швидкість течії – 2 м/с.

Відповідь:  $M^3/C$

45. Обчисліть висоту вершини, на якій туристи виміряли температуру повітря  $+12\text{ }^\circ C$ , якщо відомо, що на рівні моря вона становить  $+21\text{ }^\circ C$ .

Відповідь:  $M$

46. Якою буде солоність моря, якщо об'єм води становить 100 тис.  $M^3$  і в ньому розчинено 2 т різних солей?

Відповідь:  $\text{‰}$

47. Визначте на карті географічну довготу точки А.

Відповідь:

48. Визначте на карті географічну широту точки Б.

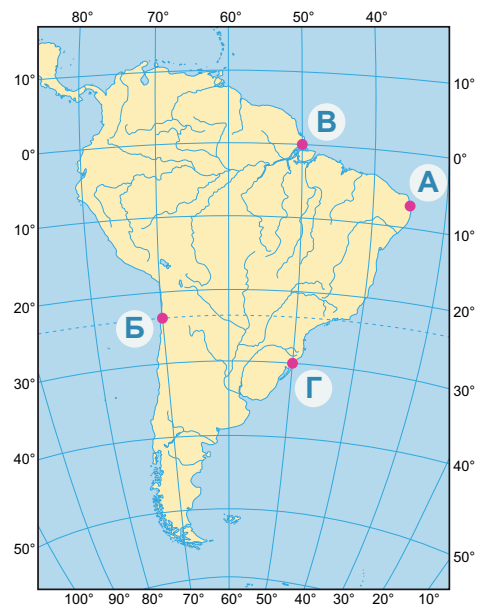
Відповідь:

49. Визначте у градусах відстань від точки В до точки Г.

Відповідь:  $^\circ$

50. Визначте в кілометрах відстань від точки В до точки Г.

Відповідь:  $KM$



#### IV. Завдання 51–56 множинного вибору з трьома правильними відповідями

51. Виберіть **неправильні** твердження.

- 1 для зображення території Євразії краще використовувати циліндричну проєкцію
- 2 карти Антарктиди виконано за допомогою прямої азимутальної проєкції
- 3 карту півкуль виконано в поперечній азимутальній проєкції
- 4 у рівновеликих проєкціях площі не спотворюються
- 5 рівнокутні проєкції незначною мірою спотворюють кути й азимуту
- 6 спотворення в циліндричній проєкції зростають від полюсів до екватора
- 7 у циліндричній проєкції будуються карти світу

52. Зазначте гірські системи, які за віком є молодими.

- |                  |                  |
|------------------|------------------|
| 1 Карпати        | 5 Хібіни         |
| 2 Уральські гори | 6 Драконові гори |
| 3 Анди           | 7 Алтай          |
| 4 Гімалаї        |                  |

53. Виберіть назви островів, що мають материкове походження.

- |               |              |
|---------------|--------------|
| 1 Сейшельські | 5 Фіджі      |
| 2 Мадагаскар  | 6 Тасманія   |
| 3 Гавайські   | 7 Курильські |
| 4 Нова Гвінея |              |

54. Виберіть з перелічених антропогенні ландшафти.

- |                              |                                     |
|------------------------------|-------------------------------------|
| 1 парк культури й відпочинку | 4 степ у заповіднику «Асканія-Нова» |
| 2 джунглі                    | 5 терикони                          |
| 3 арктична пустеля           | 6 водосховище                       |
|                              | 7 заповідник                        |

55. Оберіть правильні зіставлення в парі «річка – материк».

- 1 Амур – Африка
- 2 Парана – Південна Америка
- 3 Дарлінг – Австралія
- 4 Атабаска – Північна Америка
- 5 Одра – Азія
- 6 Лімпопо – Євразія
- 7 Оранжева – Азія

56. Зазначте геологічні періоди, що входять у палеозойську еру.

- |                |              |
|----------------|--------------|
| 1 крейдовий    | 5 девонський |
| 2 палеогеновий | 6 карбоновий |
| 3 силурійський | 7 юрський    |
| 4 тріасовий    |              |

## РОЗДІЛ 2. ГЕОГРАФІЯ МАТЕРИКІВ І ОКЕАНІВ

### I. Завдання 1–36 з вибором однієї правильної відповіді

1. Назвіть найповноводнішу річку Африки.

А Лімпопо

Б Конго

В Ніл

Г Сенегал

А Б В Г

--	--	--	--

2. Визначте наймолодшу гірську систему Африки.

А Альпи

Б Драконові гори

В Капські гори

Г Атлаські гори

А Б В Г

--	--	--	--

3. Виберіть корисну копалину, що не характерна для надр Північної Африки.

А олов'яні руди

Б нафта

В природний газ

Г фосфорити

А Б В Г

--	--	--	--

4. З'ясуйте, які вітри переважно формують екваторіальний клімат Африки.

А мусони

Б бризи

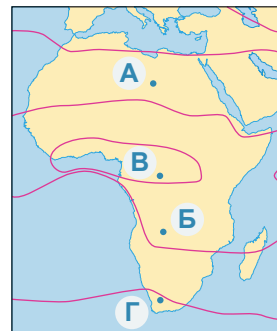
В пасати

Г західні вітри

А Б В Г

--	--	--	--

5. У якому з пунктів, позначених на карті Африки, середньорічна кількість опадів є найбільшою?



А Б В Г

--	--	--	--

6. Назвіть найвищі дерева, що ростуть в Австралії.

А мамонтове дерево

Б пляшкове дерево

В евкалипт

Г баобаб

А Б В Г

--	--	--	--

7. Північна частина Австралії розташована у кліматичному поясі...

А екваторіальному

Б субекваторіальному

В тропічному

Г субтропічному

А Б В Г

--	--	--	--

8. Які корисні копалини є на заході Австралії?

А фосфорити

Б залізні руди

В буре вугілля

Г уранові руди

А Б В Г

--	--	--	--

9. Найвищою вершиною Південної Америки є...

- A г. Чимборасо
- Б вулкан Котопахі

- В г. Аконкагуа
- Г вулкан Орісаба

А Б В Г

--	--	--	--

10. Яке озеро у Південній Америці є високогірним?

- A Тітікака
- Б Верхнє

- В Маракайбо
- Г Ері

А Б В Г

--	--	--	--

11. Яка течія сприяє утворенню пустелі Атакама?

- A тепла Перуанська
- Б тепла Бразильська

- В холодна Перуанська
- Г холодна Чилійська

А Б В Г

--	--	--	--

12. Вологі екваторіальні ліси Південної Америки відрізняються від африканських...

- A більш сухим кліматом
- Б більш різноманітним тваринним і рослинним світом


- В відсутністю хижаків серед тварин
- Г наявністю великих ссавців

А Б В Г

--	--	--	--

13. З'ясуйте, який ендемік Південної Америки, що мешкає в Андах, був приручений місцевим населенням і використовується як в'ючна тварина.

- A віслик
- Б як
- В верблюдо
- Г лама



А Б В Г

--	--	--	--

14. Яка річка утворила Великий каньйон у Північній Америці?

- A Ріо-Гранде
- Б Маккензі

- В Колорадо
- Г Юкон

А Б В Г

--	--	--	--

15. Визначте, які гори Північної Америки є старими й дуже зруйнованими.

- A Кордильєри
- Б Маккензі

- В Аппалачі
- Г Скелясті

А Б В Г

--	--	--	--

16. Якими відкладами утворена Міссісіпська низовина?

- A морськими
- Б озерними

- В льодовиковими
- Г річковими

А Б В Г

--	--	--	--

17. Яку затоку в Північній Америці називають «гаряча сковорідка»?

А Аляску

Б Мексиканську

В Фанді

Г Гудзонову

А Б В Г

--	--	--	--

18. Платформа, що лежить в основі Антарктиди, входила до складу...

А Лавразії

Б Темісу

В Гондвани

Г Давньоантарктичної плити

А Б В Г

--	--	--	--

19. Найбільші запаси алмазів і золота в Азії розташовані...

А на Камчатці

Б на Аравійському півострові

В в Якутії

Г на Іранському нагір'ї

А Б В Г

--	--	--	--

20. Виберіть, чим представлений рослинний і тваринний світ Антарктиди.

А луками й моховими болотами, білими ведмедями

Б лишайниками, пінгвінами, буревісниками, морськими левами та тюленими


В гевеєю, пумою, гуанако, нутрією, кондором

Г хвойними лісами та мохом, гризунами

А Б В Г

--	--	--	--

21. Визначте, яку зі світлин не можна зробити в Антарктиці.



А Б В Г

--	--	--	--

22. Природні зони Євразії найбільш чітко виражені на рівнині...

А Великій Китайській

Б Середньодунайській

В Індо-Гангській

Г Східноєвропейській

А Б В Г

--	--	--	--

23. Територію Євразії на відміну від інших материків формують...

А дві великі давні платформи

Б три великі давні платформи

В чотири великі давні платформи

Г п'ять великих давніх платформ

А Б В Г

--	--	--	--

24. Виберіть гірську вершину, що є найвищою в Європі.

А г. Говерла

Б г. Монблан

В г. Роман-Кош

Г г. Анета

А Б В Г

--	--	--	--

25. Визначте, де розташовувався центр давнього зледеніння Євразії.

- A на Західносибірській рівнині
- Б на о. Велика Британія

- В у Скандинавських горах
- Г на Кольському півострові

A B B Г

--	--	--	--

26. Для якої території у зв'язку з дією мусонів характерне вологе літо й малохмарна морозна погода взимку?

- A Західносибірської рівнини
- Б Східної Азії

- В Аравійського півострова
- Г Уральських гір

A B B Г

--	--	--	--

27. Укажіть, якою літерою позначено найглибше озеро Євразії.



A B B Г

--	--	--	--

28. Визначте пору року, коли ріки Північного Середземномор'я будуть найповноводніші.

- A весна
- Б літо

- В осінь
- Г зима

A B B Г

--	--	--	--

29. Мусонні дощі призводять до літніх повеней на річці...

- A Волга
- Б Дунай

- В Янцзи
- Г Євфрат

A B B Г

--	--	--	--

30. Підводні океанічні хребти Ломоносова й Менделєєва перетинають у середній частині океан...

- A Атлантичний
- Б Індійський

- В Північний Льодовитий
- Г Тихий

A B B Г

--	--	--	--

31. Виберіть наймілководніше море на Землі.

- A Балтійське
- Б Азовське

- В Середземне
- Г Мармурове

A B B Г

--	--	--	--

32. Яка протока є найширшою і найглибшою у світі?

- A Гібралтарська
- Б Зондська

- В Дрейка
- Г Лаперуза

A B B Г

--	--	--	--

33. Найтеплішим океаном є...

- A Північний Льодовитий
- Б Індійський

- В Тихий
- Г Атлантичний

A B B Г

--	--	--	--

34. Виберіть океан, у якому спостерігається найбільша солоність води.

- A Індійський
- Б Атлантичний

- В Тихий
- Г Північний Льодовитий

A B B Г

--	--	--	--

35. Для якого океану найхарактерніші такі явища, як цунамі?

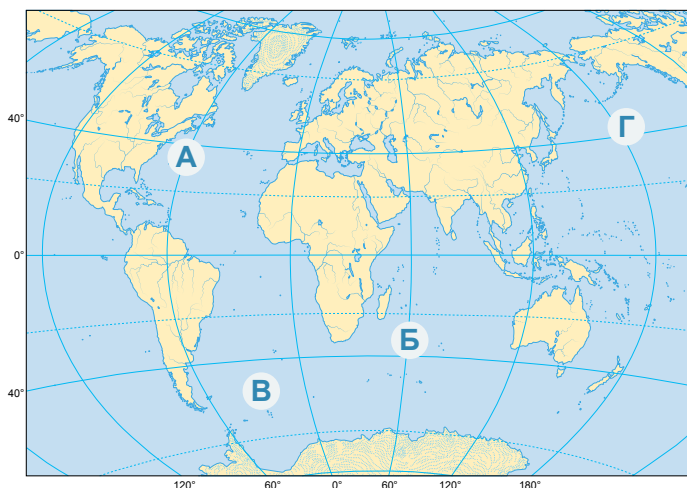
- A Північного Льодовитого
- Б Індійського

- В Тихого
- Г Атлантичного

A B B Г

--	--	--	--

36. Установіть, якою літерою на карті позначено акваторію Світового океану, де найбільше проявляється вплив материка на напрямок руху океанських течій.



A B B Г

--	--	--	--

## II. Завдання 37–42 на визначення відповідності

37. Укажіть відповідність між материками та їхніми північними крайніми точками.

- 1 Євразія
- 2 Африка
- 3 Австралія
- 4 Південна Америка

- A м. Йорк
- Б м. Мерсісон
- В м. Гальїнас
- Г м. Челюскін
- Д м. Рас-Енгела

	A	Б	В	Г	Д
1					
2					
3					
4					

38. Установіть відповідність між материками та їхніми тваринами-ендеміками.



А Африка  
Б Євразія

В Південна Америка  
Г Австралія

Д Північна Америка

	А	Б	В	Г	Д
1					
2					
3					
4					

39. Установіть відповідність між епохами горотворення та горами, які в той час сформувалися в Євразії.

- 1 Піренеї
- 2 Скандинавські гори
- 3 Уральські гори
- 4 Верхоянський хребет

- А мезозойська
- Б байкальська
- В герцинська
- Г каледонська
- Д альпійська

	А	Б	В	Г	Д
1					
2					
3					
4					

40. Знайдіть відповідність між океанами та об'єктами і явищами, що для них характерні.

- 1 Атлантичний
- 2 Тихий
- 3 Північний Льодовитий
- 4 Індійський

	А	Б	В	Г	Д
1					
2					
3					
4					



41. Укажіть відповідність між формами рельєфу Південної Америки та місцевими назвами природних комплексів, які на них розташовані.

- 1 Амазонська низовина
- 2 Орінокська низовина
- 3 Бразильське плоскогір'я
- 4 Ла-Платська низовина
- А льянос
- Б кампос
- В сельва
- Г пампа
- Д прерія

	А	Б	В	Г	Д
1					
2					
3					
4					

42. Знайдіть відповідність між географічними термінами, що позначають характерні для певних материків явища, та материками.

- 1 гамади, сірокко, гілея, ваді
- 2 сельва, верано, пампа, льянос
- 3 крік, скреб, риф
- 4 маквіс, тайга, узбої, джунглі
- А Євразія
- Б Африка
- В Південна Америка
- Г Північна Америка
- Д Австралія

	А	Б	В	Г	Д
1					
2					
3					
4					



### III. Завдання 43–50 відкритої форми з короткою відповіддю

43. Визначте, яку частину загальної площі суходолу планети становить площа найбільшого материка.

Відповідь: \_\_\_\_\_ % (з точністю до десятих)

44. Обчисліть середню солоність води Індійського океану, якщо відомо, що загальна площа його поверхні становить 76,2 млн км<sup>2</sup>, середня глибина – 3897 м і в ньому розчинено  $103\,932\,900 \times 10^8$  т солей.

Відповідь: \_\_\_\_\_ ‰

45. Яку частину загальної площі земної поверхні становить площа акваторії найбільшого океану?

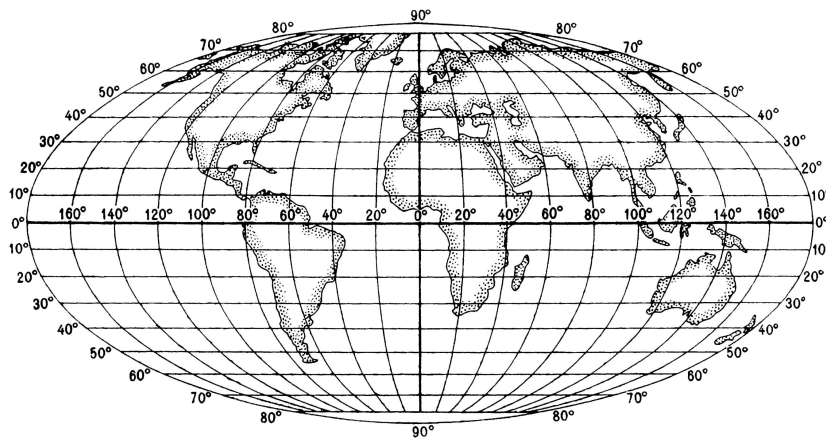
Відповідь: \_\_\_\_\_ % (з точністю до десятих)

46. Точка А в Африці розташована на 133 м нижче рівня океану, а висота точки В відносно точки А становить 6028 м. Визначте абсолютну висоту точки В.

Відповідь: \_\_\_\_\_ м

47. Визначте назву гірської вершини за координатами 32° пд. ш. і 70° зх. д.

Відповідь: \_\_\_\_\_



48. Визначте протяжність території Африки між північною та південною крайніми точками, якщо відомо, що 1° дорівнює 111 км.

Відповідь: \_\_\_\_\_ км

49. Визначте коефіцієнт зволоження пустелі Сахара, якщо відомо, що на цій території випадає 50 мм опадів на рік, а випаровуваність становить 500 мм.

Відповідь: \_\_\_\_\_

50. Визначте похил річки Дунай, якщо вона бере початок на висоті 678 м.

Відповідь: \_\_\_\_\_ м/км

#### IV. Завдання 51–56 множинного вибору з трьома правильними відповідями

51. Які географічні об'єкти відокремлюють Африку від Євразії?

- 1 Суецький канал
- 2 Гвінейська затока
- 3 Гібралтарська протока
- 4 Торесова протока
- 5 Мозамбіцька протока
- 6 Баб-ель-Мандебська протока
- 7 Татарська протока

--	--	--

52. У яких кліматичних поясах розташована територія Південної Америки?

- 1 субтропічному
- 2 екваторіальному
- 3 субантарктичному
- 4 арктичному
- 5 помірному
- 6 антарктичному
- 7 субарктичному

--	--	--

53. Виберіть річки Євразії, що належать до басейну внутрішнього стоку.

- 1 Амудар'я
- 2 Урал
- 3 Амур
- 4 Волга
- 5 Темза
- 6 Тигр
- 7 Сена

--	--	--

54. Виберіть теплі течії Атлантичного океану.

- 1 Канарська
- 2 Бразильська
- 3 Гвінейська
- 4 Гольфстрім
- 5 Лабрадорська
- 6 Сомалійська
- 7 Куросіо

--	--	--

55. Укажіть, на які корисні копалини багата територія Амазонії.

- 1 олово
- 2 алмази
- 3 фосфорити
- 4 нафта
- 5 залізна руда
- 6 боксити
- 7 хромові руди

--	--	--

56. Виберіть ендеміків Австралії.

- 1 коала
- 2 слон
- 3 жираф
- 4 кенгуру
- 5 качкодзьоб
- 6 страус
- 7 пантера

--	--	--

# РОЗДІЛ 3. ФІЗИЧНА ГЕОГРАФІЯ УКРАЇНИ

## I. Завдання 1–36 з вибором однієї правильної відповіді

1. Укажіть, з якою країною Україна має найкоротший кордон на суходолі.

- A Білоруссю  
Б Словаччиною

- В Росією  
Г Угорщиною

A B B Г  

--	--	--	--

2. Яка область є найбільшою за площею?

- A Дніпропетровська  
Б Луганська

- В Львівська  
Г Одеська

A B B Г  

--	--	--	--

3. У якому році остаточно сформувалася сучасна територія України?

- A 1924 р.  
Б 1940 р.

- В 1954 р.  
Г 1968 р.

A B B Г  

--	--	--	--

4. Визначте, якому історико-географічному регіону відповідає територія сучасних Донецької та Луганської областей.

- A Бессарабія  
Б Донщина

- В Волинь  
Г Таврія

A B B Г  

--	--	--	--

5. Географічний центр Європи розташований в Україні у ...

- A м. Чоп  
Б с. Ділове (Закарпатська обл.)

- В с. Славське (Львівська обл.)  
Г м. Дрогобич

A B B Г  

--	--	--	--

6. Виберіть правильне твердження щодо геологічної історії Кримських гір.

- A Кримські гори цілком сформовані в альпійський період горотворення  
Б Кримські гори формувалися в мезозойський період  
В Кримські гори були спочатку утворені в мезозойський період, а в період альпійського горотворення відбулося повторне накладання молодих складок  
Г Кримські гори представлені докембрійськими породами, що вказує на їхній значний вік

A B B Г  

--	--	--	--

7. З'ясуйте, яка частина території України припадає на низовини.

- A 95 %  
Б 25 %

- В 20 %  
Г 70 %

A B B Г  

--	--	--	--

8. Зазначте форму рельєфу, для якої характерним є флювіогляціальний рельєф.

- A Причорноморська низовина  
Б Донецький кряж

- В Північнокримська низовина  
Г Поліська низовина

A B B Г  

--	--	--	--

9. Виберіть **неправильне** твердження щодо особливостей Українських Карпат.

- A Українські Карпати за віком є молодими горами
- Б Українські Карпати сформовані переважно крейдовими, палеогеновими та неогеновими відкладами
- В Найвищим масивом Українських Карпат є Черногірський
- Г В Українських Карпатах трапляється велика кількість карстових форм рельєфу

A   Б   В   Г

--	--	--	--

10. Визначте, який басейн не належить до нафтогазоносних.



A   Б   В   Г

--	--	--	--

11. Укажіть, яке з перелічених родовищ природного газу територіально належить до Дніпровсько-Донецької нафтогазоносної провінції.

- A Гринівське
- Б Голіцинське
- В Глібовське
- Г Єфремівське

A   Б   В   Г

--	--	--	--

12. Назвіть найбільше родовище графіту в Україні.

- A Петрівське
- Б Завалівське
- В Буртинське
- Г Рава-Руське

A   Б   В   Г

--	--	--	--

13. Виберіть, на якій території випадає найбільша кількість опадів.

- A у Степовому Криму
- Б у Карпатах
- В у Придніпров'ї
- Г у Донеччині

A   Б   В   Г

--	--	--	--

14. Визначте середню температуру липня на території України.

- A +25...+27 °C
- Б +25...+27 °C
- В +22...+25 °C
- Г +17...+22 °C

A   Б   В   Г

--	--	--	--

15. Яка кількість опадів випадає в середньому у степовому Причорномор'ї?

- A 50–250 мм
- Б 300–450 мм
- В 600–850 мм
- Г 1500–1600 мм

A   Б   В   Г

--	--	--	--

16. Яке несприятливе для сільського господарства кліматичне явище найбільш характерне для степів України?

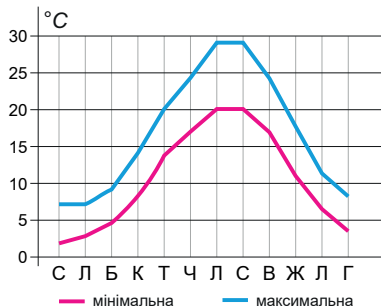
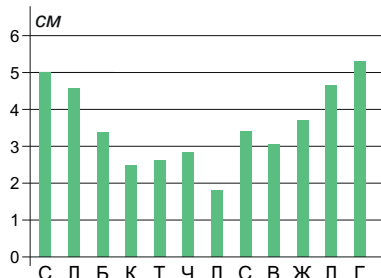
- A гроза
- Б суховії
- В ожеледиця
- Г туман

A   Б   В   Г

--	--	--	--

17. Для якого міста характерний хід опадів і температур, відображений на малюнку?

- A Київ
- Б Ялта
- В Ужгород
- Г Одеса



A B B Г

--	--	--	--

18. Де спостерігається найгустіша річкова мережа в межах України?

- A у Донбасі
- Б у Передкарпатті
- В у Придніпров'ї
- Г у Степовому Криму

A B B Г

--	--	--	--

19. Виберіть річку, що належить до басейну Балтійського моря.

- A Салгир
- Б Південний Буг
- В Сіверський Донець
- Г Західний Буг

A B B Г

--	--	--	--

20. Виберіть типово гірську ріку.

- A Кальміус
- Б Прип'ять
- В Стрий
- Г Тетерів

A B B Г

--	--	--	--

21. Яку давньогрецьку назву мала сучасна річка Дніпро?

- A Славутич
- Б Карфаген
- В Борислав
- Г Борисфен

A B B Г

--	--	--	--

22. Виберіть тип боліт, який є найпоширенішим в Україні.

- A низинні
- Б верхові
- В змішані
- Г очеретні

A B B Г

--	--	--	--

23. Найстарішим водосховищем на Дніпрі є...

- A Каховське
- Б Київське
- В Кременчуцьке
- Г Дніпровське

A B B Г

--	--	--	--

24. Визначте область України з найродючішими ґрунтами.

- A Житомирська
- Б Кіровоградська
- В Закарпатська
- Г Київська

A B B Г

--	--	--	--

25. Скільки приблизно видів нараховує флора України?

- A 1 тис. видів
- Б 15 тис. видів

- В 30 тис. видів
- Г 50 тис. видів

A Б В Г

--	--	--	--

26. Виберіть область з найнижчим показником лісистості серед областей України.

- A Рівненська
- Б Херсонська

- В Хмельницька
- Г Чернігівська

A Б В Г

--	--	--	--

27. Які породи є основними для лісів Карпат?

- A ялиця, липа, акація
- Б бук лісовий, ялина, ялиця

- В ялина, дуб, бук
- Г дуб, бук, сосна

A Б В Г

--	--	--	--

28. Характерним представником тваринного світу степів України є...

- A зубр
- Б ховрашок

- В благородний олень
- Г верблюд

A Б В Г

--	--	--	--

29. На рівнинній території України виділяють такі природні зони:

- A широколистих лісів, мішаних лісів та степу
- Б широколистих лісів і лісостепів
- В мішаних і широколистих лісів, лісостепу й степу
- Г напівпустель, степів і мішаних лісів

A Б В Г

--	--	--	--

30. Якою літерою на карті позначено зону лісостепу?



A Б В Г

--	--	--	--

31. У якій природній зоні розташовані такі адміністративні області України, як Волинська, Рівненська, Житомирська, Київська, Чернігівська?

- A мішаних і широколистих лісів
- Б лісостепів

- В степів
- Г ПБК

A Б В Г

--	--	--	--

32. Найвищим висотним поясом Карпат є пояс...

А лісостепів

В хвойних лісів

Б субальпійських луків

Г мішаних лісів

А Б В Г

--	--	--	--

33. Виберіть показник солоності вод Чорного моря.

А 18 ‰

В 24 ‰

Б 20 ‰

Г 25 ‰

А Б В Г

--	--	--	--

34. До природних особливостей Азовського моря належить...

А мала глибина

В наявність сірководневого шару

Б наявність великих островів

Г солоність 15–20 ‰

А Б В Г

--	--	--	--

35. Основною причиною обміління малих річок України є...

А рельєф

В вирубка лісів

Б потепління

Г забруднення ґрунтів

А Б В Г

--	--	--	--

36. Визначте, який природоохоронний об'єкт зображено на фото.

А Канівський природний заповідник

Б Ялтинський природний заповідник

В національний природний парк «Синевир»

Г біосферний заповідник «Асканія-Нова»



А Б В Г

--	--	--	--

## II. Завдання 37–42 на визначення відповідності

37. Знайдіть відповідність між історико-географічними землями та їхнім розташуванням.

- 1 Галичина
- 2 Полісся
- 3 Слобожанщина
- 4 Таврія



	А	Б	В	Г	Д
1					
2					
3					
4					

38. Установіть відповідність між рівнинами та формами земної поверхні, що характерні для цих рівнин на території України.

- |                            |                             |
|----------------------------|-----------------------------|
| 1 Поліська низовина        | А моренні горби             |
| 2 Придніпровська низовина  | Б конуси грязьових вулканів |
| 3 Донецька височина        | В терикони                  |
| 4 Причорноморська низовина | Г поди, блюдиця             |
|                            | Д соляні куполи             |

	А	Б	В	Г	Д
1					
2					
3					
4					

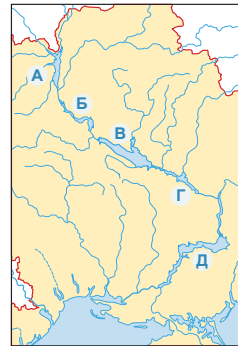
39. Установіть відповідність між територіями України та кількістю опадів, властивою їм.

- |                   |                |
|-------------------|----------------|
| 1 степ            | А 700–1100 мм  |
| 2 Кримські гори   | Б 650–750 мм   |
| 3 Закарпаття      | В 300–450 мм   |
| 4 Карпатські гори | Г 50–100 мм    |
|                   | Д 1000–2000 мм |

	А	Б	В	Г	Д
1					
2					
3					
4					

40. Знайдіть відповідність між назвами водосховищ на Дніпрі та їхнім розташуванням.

- 1 Кам'янське
- 2 Каховське
- 3 Київське
- 4 Кременчуцьке



	А	Б	В	Г	Д
1					
2					
3					
4					

41. Знайдіть відповідність між крайніми точками України та їхніми назвами.

- |            |                  |
|------------|------------------|
| 1 північна | А мис Сарич      |
| 2 південна | Б с. Мар'янівка  |
| 3 західна  | В м. Чоп         |
| 4 східна   | Г с. Рання Зірка |
|            | Д с. Грем'яч     |

	А	Б	В	Г	Д
1					
2					
3					
4					

42. Знайдіть відповідність між регіонами України та характерними для них ґрунтами.

- |                         |                                 |
|-------------------------|---------------------------------|
| 1 Придніпров'я          | А дерново-підзолисті            |
| 2 Полісся               | Б чорноземи                     |
| 3 Закарпаття            | В коричневі гірські             |
| 4 Південний берег Криму | Г сірі лісові                   |
|                         | Д буроземні та бруно-підзолисті |

	А	Б	В	Г	Д
1					
2					
3					
4					



### III. Завдання 43–50 відкритої форми з короткою відповіддю

43. Визначте географічну довготу м. Києва.

Відповідь:

44. Визначте географічну широту м. Харкова.

Відповідь:

45. Визначте відстань у градусах між найзахіднішою та найсхіднішою точками України.

Відповідь:



46. Визначте в кілометрах відстань по прямій між Одесою та Києвом.

Відповідь: **км**

47. Поясний час у м. Києві становить 23 год 34 хв. Обчисліть місцевий час у м. Луганську ( $48^{\circ}34'$  пн. ш.;  $39^{\circ}20'$  сх. д.).

Відповідь: **год хв с**

48. Обчисліть похил річки Південний Буг, якщо відомо, що висота його витoku становить 423 м, а загальна довжина – 806 км.

Відповідь: **м/км (з точністю до десятих)**

49. Визначте відносну висоту найвищої гірської вершини відносно найвищої позначки рівнинної частини України.

Відповідь: **м**

50. Туристи, піднімаючись на одну з вершин Кримських гір, виміряли температуру повітря, яка виявилася на  $5^{\circ}\text{C}$  меншою за показники термометра в цей час на рівні моря. На яку висоту піднялися туристи?

Відповідь: **м**

#### IV. Завдання 51–56 множинного вибору з трьома правильними відповідями

51. Виберіть області України, що є внутрішніми, тобто не мають виходу до кордонів.

- |                 |                    |
|-----------------|--------------------|
| 1 Харківська    | 5 Черкаська        |
| 2 Закарпатська  | 6 Дніпропетровська |
| 3 Тернопільська | 7 Сумська          |
| 4 Чернівецька   |                    |

--	--	--

52. Зазначте вік порід, з яких переважно складені Українські Карпати.

- |                 |                  |
|-----------------|------------------|
| 1 силурійські   | 5 неогенові      |
| 2 карбонові     | 6 крейдові       |
| 3 палеогенові   | 7 протерозойські |
| 4 докембрійські |                  |

--	--	--

53. Виберіть найбільш вологі міста в Україні.

- |               |            |
|---------------|------------|
| 1 Ужгород     | 5 Херсон   |
| 2 Сімферополь | 6 Калуш    |
| 3 Рахів       | 7 Миколаїв |
| 4 Суми        |            |

--	--	--

54. Виберіть основні породи дерев у лісах Кримських гір.

- |        |         |
|--------|---------|
| 1 дуб  | 5 сосна |
| 2 липа | 6 лавр  |
| 3 клен | 7 кедр  |
| 4 бук  |         |

--	--	--

55. Які області входять до історико-географічного регіону Слобожанщина?

- |              |                    |
|--------------|--------------------|
| 1 Київська   | 5 Луганська        |
| 2 Сумська    | 6 Одеська          |
| 3 Харківська | 7 Дніпропетровська |
| 4 Херсонська |                    |

--	--	--

56. Виберіть річки, що належать до басейну Чорного моря.

- |                |            |
|----------------|------------|
| 1 Інгул        | 5 Дунай    |
| 2 Західний Буг | 6 Кальміус |
| 3 Самара       | 7 Салгир   |
| 4 Молочна      |            |

--	--	--

# РОЗДІЛ 4. НАСЕЛЕННЯ УКРАЇНИ ТА СВІТУ

## I. Завдання 1–36 з вибором однієї правильної відповіді

1. За показниками народжуваності сьогодні у світі лідирує...

- А США  
Б Україна  
В Нігер  
Г Австралія

А Б В Г

--	--	--	--

2. Яка з перелічених країн належить до першого типу відтворення населення?

- А Польща  
Б Нігер  
В Малі  
Г Оман

А Б В Г

--	--	--	--

3. Яка з перелічених трійок держав буде найчисленнішою?

- А Китай, Нігер, Україна  
Б Китай, США, Бангладеш  
В Індія, США, Німеччина  
Г Індія, Іспанія, Бразилія

А Б В Г

--	--	--	--

4. Демографічний вибух сьогодні є характерним для такої країни, як...

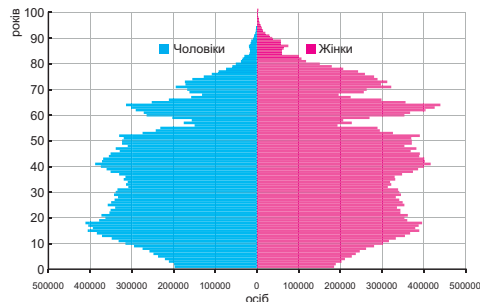
- А Китай  
Б США  
В Нігер  
Г Бразилія

А Б В Г

--	--	--	--

5. Виберіть **помилкове** твердження про статево-вікову структуру населення України.

- А кількість народжених хлопчиків є помітно вищою, ніж дівчаток  
Б найбільш помітне чисельне переважання жінок над чоловіками спостерігається у віці понад 50 років  
В у віці до 20 років у статевій структурі переважають чоловіки  
Г у віці до 20 років у статевій структурі переважають жінки



А Б В Г

--	--	--	--

6. Укажіть область, у якій спостерігається порівняно високий природний приріст.

- А Луганська  
Б Миколаївська  
В Вінницька  
Г Івано-Франківська

А Б В Г

--	--	--	--

7. Яка з перелічених країн приймає найбільшу кількість мігрантів?

- А Бразилія  
Б Росія  
В Україна  
Г США

А Б В Г

--	--	--	--

8. Для якого регіону світу характерне найвище сальдо зовнішньої міграції?

- А Латинської Америки  
Б Північної Америки  
В Європи  
Г Океанії

А Б В Г

--	--	--	--

9. У якому з перелічених регіонів України проживає найбільше мусульман?

- A Львівській області
- Б АР Крим

- В Херсонській області
- Г Закарпатській області

A B B Г

--	--	--	--

10. У якому регіоні світу чоловіки чисельно переважають жінок?

- A Західній Європі
- Б Азії

- В Австралії та Океанії
- Г Латинській Америці

A B B Г

--	--	--	--

11. У якій із перелічених країн частка дітей у віковій структурі населення є найвищою?

- A Україні
- Б США

- В Малі
- Г Бразилії

A B B Г

--	--	--	--

12. Який народ є найчисленнішим у світі?

- A американці (США)
- Б індійці

- В японці
- Г китайці

A B B Г

--	--	--	--

13. До якої мовної сім'ї належить українська мова?

- A слов'янської
- Б фінно-угорської

- В індоєвропейської
- Г східнослов'янської

A B B Г

--	--	--	--

14. Як зветься національна релігія Японії?

- A синтоїзм
- Б буддизм

- В даосизм
- Г юдаїзм

A B B Г

--	--	--	--

15. Найпоширенішою світовою релігією є...

- A юдаїзм
- Б християнство

- В іслам
- Г буддизм

A B B Г

--	--	--	--

16. У якій із перелічених країн найвищий рівень урбанізації?

- A Китаї
- Б Єгипті

- В Індії
- Г Монако

A B B Г

--	--	--	--

17. Виберіть найбільше за чисельністю населення місто світу.

- A Стамбул
- Б Мехіко

- В Москва
- Г Шанхай

A B B Г

--	--	--	--

18. Виберіть з перелічених областей України, де густина населення є найменшою.

- A Чернівецька
- Б Херсонська

- В Львівська
- Г Харківська

A B B Г

--	--	--	--

19. З'ясуйте, у якій області частка сільського населення є найбільшою.

А Житомирській

В Запорізькій

Б Херсонській

Г Чернівецькій

А Б В Г

--	--	--	--

20. Укажіть, з якого часу в Україні спостерігається від'ємний природний приріст населення.

А 1945 р.

В 1972 р.

Б 1991 р.

Г 2000 р.

А Б В Г

--	--	--	--

21. Зазначте, як називається в'їзд населення в Україну.

А еміграція

В імміграція

Б міграція

Г діаспора

А Б В Г

--	--	--	--

22. Укажіть країну світу, де проживає найчисленніша українська діаспора.

А США

В Росія

Б Китай

Г Бразилія

А Б В Г

--	--	--	--

23. До корінних жителів України відносять...

А українців та росіян

В українців і кримських татар

Б українців, росіян і білорусів

Г українців і поляків

А Б В Г

--	--	--	--

24. Греки компактно проживають у...

А Донецькій області

В Одеській області

Б Чернівецькій області

Г АР Крим

А Б В Г

--	--	--	--

25. Болгари компактно проживають у...

А Донецькій області

В Одеській області

Б Чернівецькій області

Г АР Крим

А Б В Г

--	--	--	--

26. Етнографічна група українського етносу, що розселена по обидва боки середньої частини Українських Карпат, це...

А поліщуки

В бойки

Б литвини

Г лемки

А Б В Г

--	--	--	--

27. На території Чернівецької, Івано-Франківської та Закарпатської областей проживають представники етнографічної групи...

А лемків

В поліщуків

Б бойків

Г гуцулів

А Б В Г

--	--	--	--

28. Найчисленнішою релігійною організацією в Україні є...

- A *Православна церква України*
- B *Всеукраїнський союз об'єднань Євангельських християн-баптистів*
- B *Українська автокефальна православна церква*
- Г *Українська греко-католицька церква*

A B B Г

--	--	--	--

29. Яка релігійна конфесія домінує на Галичині?

- A *Всеукраїнський союз об'єднань Євангельських християн-баптистів*
- B *Православна церква України*
- B *Українська автокефальна православна церква*
- Г *Українська греко-католицька церква*

A B B Г

--	--	--	--

30. У якому з перелічених регіонів України проживає найбільше румунів?

- A *Волинській області*
- B *АР Крим*
- B *Харківській області*
- Г *Чернівецькій області*

A B B Г

--	--	--	--

31. Укажіть, яке з міст України не є містом-мільйонником.

- A *Донецьк*
- B *Одеса*
- B *Київ*
- Г *Харків*

A B B Г

--	--	--	--

32. Виберіть правильне твердження щодо м. Львів.

- A *багатогалузевий, рекреаційно-туристичний, військовий центр*
- B *адміністративний, багатогалузевий, великий культурний і туристичний центр*
- B *мале місто України*
- Г *місто-мільйонник*

A B B Г

--	--	--	--

33. Назвіть область, яка має найвищий рівень урбанізації.

- A *Дніпропетровська*
- B *Сумська*
- B *Миколаївська*
- Г *Закарпатська*

A B B Г

--	--	--	--

34. Укажіть, як називається відтік населення з великих міст до приміських зон.

- A *урбанізація*
- B *агломерація*
- B *субурбанізація*
- Г *контурбанізація*

A B B Г

--	--	--	--

35. Частина населення, що не входить до складу трудових ресурсів, це...

- A *економічно неактивне населення*
- B *безробітні*
- B *економічно активне населення*
- Г *незайняті*

A B B Г

--	--	--	--

36. У якому регіоні світу наявна найбільша кількість світових міст?

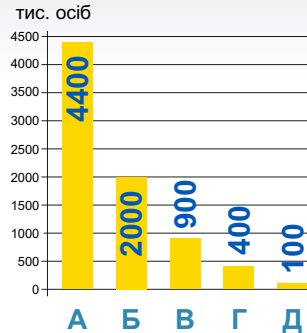
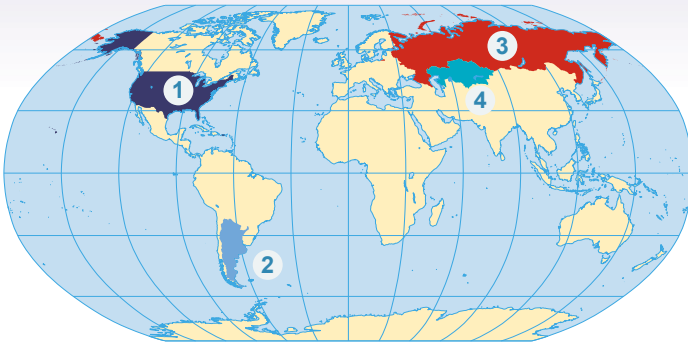
- A *Європі*
- B *Південній Азії*
- B *Центральній Азії*
- Г *Латинській Америці*

A B B Г

--	--	--	--

## II. Завдання 37–42 на визначення відповідності

37. Знайдіть відповідність між показниками чисельності української діаспори та країнами, які ці показники характеризують.



	А	Б	В	Г	Д
1					
2					
3					
4					

38. Установіть відповідність між фотографією, що символізує певну релігію, та країною, у якій ця релігія переважає.



- А Україна
- Б Оман
- В Ізраїль
- Г Японія
- Д Італія

	А	Б	В	Г	Д
1					
2					
3					
4					

39. Установіть відповідність між національними меншинами та областями, де вони компактно проживають.

- 1 молдовани
- 2 татари
- 3 угорці
- 4 греки

- А Донецька
- Б Херсонська
- В Закарпатська
- Г АР Крим
- Д Одеська

	А	Б	В	Г	Д
1					
2					
3					
4					

40. Установіть відповідність між етнографічною групою українців та областю, де існує ареал їхнього мешкання.

- 1 гуцули
- 2 черкаси
- 3 бойки
- 4 поліщуки

- А Волинська
- Б Кіровоградська
- В Донецька
- Г Чернівецька
- Д Львівська

	А	Б	В	Г	Д
1					
2					
3					
4					

**41.** Установіть відповідність між містом та його функціональним значенням.

- 1 Венеція
- 2 Київ
- 3 Гібралтар
- 4 Кембрідж

- А туристичний центр
- Б військове місто
- В рекреаційно-оздоровчий центр
- Г управлінське, промислове, наукове, культурне місто
- Д науково-освітнянський центр

	А	Б	В	Г	Д
1					
2					
3					
4					

**42.** Установіть відповідність між мовними групами та народами, що до них належать.

- 1 слов'янська група
- 2 германська група
- 3 картвельська група
- 4 фінно-угорська група

- А голландці
- Б грузини
- В французи
- Г білоруси
- Д естонці

	А	Б	В	Г	Д
1					
2					
3					
4					



### III. Завдання 43–50 відкритої форми з короткою відповіддю

43. Визначте густоту населення України, якщо відомо, що на початок 2019 року в державі мешкало 42 млн осіб.

Відповідь: \_\_\_\_\_ /км<sup>2</sup>

44. Розрахуйте величину річного природного приросту населення у проміле, якщо в країні за рік народилося 18 500 осіб, померло 13 200 осіб, а чисельність населення становила 1 596 000 осіб.

Відповідь: \_\_\_\_\_ ‰ (з точністю до десятих)

- 4). \_\_\_\_\_

Відповідь: \_\_\_\_\_

- (\* "Обчисліть показник питомої ваги зайнятості населення (від загальної чисельності населення) у сільському господарстві, якщо відомо, що чисельність підлітків становить 25 тис. осіб, тих, хто працює у промисловості, – 50 тис., у сільському господарстві – 40 тис. осіб, сфері послуг – 30 тис. осіб, інших галузях – 15 тис. осіб, пенсіонери становлять 25 тис. осіб.

Відповідь: \_\_\_\_\_ % (з точністю до десятих)

- (+ "Розрахуйте кількість жінок, що мешкають в Україні, якщо їхня частка від загальної кількості населення становить 56 %.

Відповідь: \_\_\_\_\_

- (, "Визначте коефіцієнт смертності у країні, якщо протягом року там народилося 760 осіб, природний приріст склав 4,2 ‰, а чисельність населення була 52 730 осіб.

Відповідь: \_\_\_\_\_ ‰ (з точністю до десятих)

- (- "Розрахуйте сальдо міграції за рік, якщо на початку року у країні мешкало 10 000 000 осіб, наприкінці року – 11 500 000 осіб, а природний приріст за рік становив 250 000 осіб.

Відповідь: \_\_\_\_\_

- (\$ "Визначте показник природного приросту населення Франції у 2018 р., якщо коефіцієнт народжуваності становив 12,1 ‰, коефіцієнт смертності – 9,4 ‰, а чисельність населення країни – 67 364 357 осіб.

Відповідь: \_\_\_\_\_

#### IV. Завдання 51–56 множинного вибору з трьома правильними відповідями

51. Виберіть національні релігії світу.

- |                 |               |
|-----------------|---------------|
| 1 іслам         | 5 шаманізм    |
| 2 конфуціанство | 6 лютеранство |
| 3 православ'я   | 7 індуїзм     |
| 4 синтоїзм      |               |

52. Виберіть міста, що розташовані на річці Дніпро.

- |              |                 |
|--------------|-----------------|
| 1 Черкаси    | 5 Мелітополь    |
| 2 Суми       | 6 Кам'янське    |
| 3 Запоріжжя  | 7 Кропивницький |
| 4 Кривий Ріг |                 |

53. Виберіть правильні твердження.

- до індоєвропейської мовної сім'ї входять слов'янські, германські, романські та інші мови
- однаціональними країнами є Росія та Швейцарія
- угорці розмовляють на мові алтайської мовної сім'ї
- найбільша кількість народів у світі мешкає в Туреччині
- на мовах фінно-угорської групи розмовляють фіни, естонці, удмурти тощо
- до дво національних країн належать Канада та Бельгія
- молдовани розмовляють на мові слов'янської групи

54. Виберіть правильні твердження.

- в АР Крим у національній структурі населення переважають татари
- греки компактно проживають у Волинській області
- найбільша питома вага українців спостерігається в західних областях
- болгари компактно мешкають в Одеській області
- помітна питома частка молдован у національній структурі спостерігається у м. Київ
- у м. Севастополь у національній структурі населення переважають росіяни
- найбільш етнічно строкатим містом України є Маріуполь

55. До Англійського мегаполіса належать міста...

- |            |             |
|------------|-------------|
| 1 Лондон   | 5 Амстердам |
| 2 Глазго   | 6 Ліверпуль |
| 3 Единбург | 7 Манчестер |
| 4 Дублін   |             |

56. Оберіть області України з високою часткою католиків у населенні.

- |                    |                     |
|--------------------|---------------------|
| 1 Київська         | 5 Закарпатська      |
| 2 Львівська        | 6 Харківська        |
| 3 Одеська          | 7 Івано-Франківська |
| 4 Дніпропетровська |                     |